

4. SINIFA GEÇENLER İÇİN HAZIRBULUNUŞLUK ÇALIŞMALARI

TÜRKÇE

* Aşağıdaki boşlukları alfabe sırasına uygun şekilde dolduralım.

□ S □ Ç □ □ □ P □

□ □ G □ F □ U □ □

* Alfabe sırası verilen harfleri yazalım.

Alfabenin 9. harfi ○

Alfabenin 20. harfi ○

Alfabenin 7. harfi ○

Alfabenin 13. harfi ○

* Alfabemizdeki ünlü harfleri yazalım. Kalın ünlüleri kırmızıya, ince ünlüleri sarıya boyayalım.



MATEMATİK

* Aşağıdaki birlik, onluk ve yüzlükleri verilen sayıları yazalım.

4 yüzlük, 6 onluk, 9 birlik → □

5 onluk, 2 birlik, 8 yüzlük → □

7 yüzlük, 1 birlik → □

* Aşağıdaki verilen sayıları sembol kullanarak küçükten büyüğe sıralayalım.

416, 508, 351, 580

* Aşağıdaki verilen sayıları sembol kullanarak büyükten küçüğe sıralayalım.

482, 428, 468, 408

HAYAT BİLGİSİ

* Olumsuz davranışlara "X", olumlu davranışlara "✓" koyalım.

Saygılı olmak

Paylaşıcı olmak

Alaycı olmak

Dürüst olmak

Lakap takmak

Hoşgörülü olmak

Sabırlı olmak

Bencil olmak

FEN BİLİMLERİ

* Aşağıdaki ifadelerden doğru olanlara "D", yanlış olanlara "Y" yazalım.

Dünya'nın şekli kareye benzer.

Dünya yanlardan şişkin, üstten ve alttan basıktır.

Dünya'nın şekliyle ilgili görüşler hiç değişmemiştir.

Uzaydan çekilen fotoğraflar Dünya'nın yuvarlak olduğunu kanıtlar.

Dünya'da karalar sulardan fazladır.

4. SINIFA GEÇENLER İÇİN HAZIRBULUNUŞLUK ÇALIŞMALARI

TÜRKÇE

* Aşağıdaki kelimeleri alfabetik sıraya göre numaralandıralım.

kitaplık
fasulye
yol
okul

erişte
elek
ekin
eskici

* Aşağıdaki kelimeleri sözlük sırasına göre sıralayalım.

kasa, sakı, kira, takı

1- 2- 3- 4-

balık, bamya, beşik, baskı

1- 2- 3- 4-

MATEMATİK

* Altışar ritmik sayma yapalım.

→ 18 ○ ○ ○ ○ ○ ○

→ 23 ○ ○ ○ ○ ○ ○

* Yedişer ritmik sayma yapalım.

→ 28 ○ ○ ○ ○ ○ ○ ○

→ 16 ○ ○ ○ ○ ○ ○ ○

* Sekizer ritmik sayma yapalım.

→ 32 ○ ○ ○ ○ ○ ○ ○ ○

→ 21 ○ ○ ○ ○ ○ ○ ○

* Dokuzar ritmik sayma yapalım.

→ 9 ○ ○ ○ ○ ○ ○ ○ ○ ○

→ 26 ○ ○ ○ ○ ○ ○ ○ ○ ○

HAYAT BİLGİSİ

* Arkadaşlarımızda olmasını istediğimiz davranışlardan 5 tanesini yazalım.

1- _____

2- _____

3- _____

4- _____

5- _____

FEN BİLİMLERİ

* Dünya'nın katmanlarını yazalım.

Gözlenebilen
Katmanları

• _____
• _____
• _____

Gözlenemeyen
Katmanları

• _____
• _____

* Dünya'nın katmanlarını dıştan içe doğru sıralayalım.

DİŞTAN
İÇE
DOĞRU

→ [] → []
← [] ← []

4. SINIFA GEÇENLER İÇİN HAZIRBULUNUŞLUK ÇALIŞMALARI

TÜRKÇE

*Aşağıdaki verilen kelimeleri hecelerine ayıralım.

inceleme →

greyfurt →

bakımevi →

aile →

bayat →

*Hece sayılarına uygun kelimeler yazalım

1 heceli

2 heceli

3 heceli

4 heceli

MATEMATİK

*Aşağıdaki verilen sayıları romen rakamlarıyla yazalım.

1 →

7 →

11 →

3 →

15 →

8 →

19 →

12 →

9 →

16 →

10 →

2 →

13 →

18 →

4 →

20 →

17 →

5 →

6 →

14 →

HAYAT BİLGİSİ

* Evdeki kaynakları tasarruflu kullanmak için neler yapmalıyız? (4 tane)

→

.....

.....

→

.....

.....

→

.....

.....

→

.....

.....

FEN BİLİMLERİ

*Aşağıdaki verilen bilgilerin hangi katmana ait olduğunu yazalım.

→Oksijen ve bir çok gazdan oluşan katmandır.

→Dünya'nın en sıcak katmandır.

→Toprak, taş ve kayalardan oluşan katmandır.

→Dünya'nın üzerindeki mavi alanları oluşturur.

→Yerkabuğunun hemen altında bulunan katmandır.

4. SINIFA GEÇENLER İÇİN HAZIRBULUNUŞLUK ÇALIŞMALARI

TÜRKÇE

* Aşağıdaki eş sesli kelimeleri farklı anlamlarıyla cümle içersinde kullanalım.

ben

yüz

ocak

iç

MATEMATİK

* Aşağıdaki tek sayıları kırmızıya, çift sayıları sarıya boyayalım.

30

314

991

5

618

65

102

807

513

89

456

715

• Üç basamaklı rakamları farklı en büyük çift sayı

• Üç basamaklı en küçük tek sayı

• İki basamaklı rakamları farklı en küçük tek sayı

• Onlar basamağı 2 olan en küçük çift sayı

HAYAT BİLGİSİ

* Komşularımızda olmasını istediğimiz özellikleri boyayalım.

paylaşımçı

kıskanç

saygısız

anlayışlı

yalancı

güvenilir

güler yüzlü

kibirli

samimi

hoşgörülü

FEN BİLİMLERİ

→ hızlanma → yavaşlama → dönme
→ sallanma → yön değiştirme

* Yukarıdaki hareket çeşitlerini uygun boşluklara yazalım.

→ Saatin akrep ve yelkovanı hareketi yapar.

→ Duvara çarpan top hareketi yapar.

→ Kırmızı ışığa yaklaşan araba hareketi yapar.

→ Salıncakta sallanan çocuk hareketi yapar.

4. SINIFA GEÇENLER İÇİN HAZIRBULUNUŞLUK ÇALIŞMALARI

TÜRKÇE

*Aşağıdaki kelimelerin zıt anlamlılarını yazalım.

sağlam-	kirli-
dost-	kabul-
kuru-	üvey-
acemi-	geniş-
ağır-	ceza-
kuzey-	nazik-

*Aşağıdaki zıt anlamlı kelimeleri aynı renge boyayalım.



MATEMATİK

*Aşağıdaki toplama işlemlerini yapalım.

$$\begin{array}{r} 376 \\ +284 \\ \hline \end{array}$$

$$\begin{array}{r} 692 \\ +306 \\ \hline \end{array}$$

$$\begin{array}{r} 537 \\ +264 \\ \hline \end{array}$$

$$\begin{array}{r} 197 \\ +384 \\ \hline \end{array}$$

$$\begin{array}{r} 273 \\ 134 \\ +496 \\ \hline \end{array}$$

$$\begin{array}{r} 305 \\ 286 \\ +109 \\ \hline \end{array}$$

*Çıkarma işlemlerini yapalım.

$$\begin{array}{r} 735 \\ -208 \\ \hline \end{array}$$

$$\begin{array}{r} 590 \\ -293 \\ \hline \end{array}$$

$$\begin{array}{r} 538 \\ -468 \\ \hline \end{array}$$

$$\begin{array}{r} 900 \\ -371 \\ \hline \end{array}$$

$$\begin{array}{r} 604 \\ -253 \\ \hline \end{array}$$

$$\begin{array}{r} 293 \\ -177 \\ \hline \end{array}$$

HAYAT BİLGİSİ

*Aşağıdaki mesleklere ait bilgilerle verilen meslekleri eşleştirelim.

→Hayvanlarımız hasta olduğunda onları iyileştirir.

Veteriner

→Yangınları söndürler.

Polis

→Yırtılan kıyafetleri tamir ederler.

Manav

→Toplumdaki güvenliğini sağlarlar.

İtfaiye

→Sebze ve meyve satarlar.

Terzi

FEN BİLİMLERİ

*Aşağıdaki verilen cümlelerin ilgili olduğu duyu organlarını yazalım.

• İşitme duyu organımızdır.

• Tüm vücudumuzu kaplayan duyu organımızdır.

• Çevremizdeki varlıkları görmemizi sağlayan duyu organıdır.

• Nesnelerin kokusunu almamızı sağlayan duyu organımızdır.

• Yiyeceklerin tadını algılamamızı sağlayan duyu organımızdır.

4. SINIFA GEÇENLER İÇİN HAZIRBULUNUŞLUK ÇALIŞMALARI

1) Yüzler basamağı 4 olan üç basamaklı en küçük sayının 284 fazlası kaç olur?

5) Üç basamaklı rakamları farklı en küçük çift sayının 586 fazlası kaçtır?

2) 594 sayısının birler basamağı ile onlar basamağı yer değiştiriliyor. Oluşan yeni sayı ile ilk sayının toplamı kaç olur?

6) Bir çiftlikte 105 koyun, koyunlardan 26 eksik inek vardır. Çiftlikteki inek ve koyunların toplamı kaçtır?

3) Yüzlüğe yuvarlandığında 500 olan en büyük sayı ile en küçük sayının farkı kaçtır?

7) Hangi sayının 392 fazlası üç basamaklı en büyük çift sayıya eşittir?

4) "3-7-0-4" rakamlarıyla yazılabilecek, rakamları farklı üç basamaklı en büyük sayı ile en küçük sayının toplamı kaçtır?

8) Ahmet'in 285 TL parası vardı. Amcası da Ahmet'e 130 TL verdi. Ahmet, markette parasının 190 TL'sini harcadı. Geriye kaç TL parası kalmıştır?

4. SINIFA GEÇENLER İÇİN HAZIRBULUNUŞLUK ÇALIŞMALARI

TÜRKÇE

* Aşağıdaki eş anlamlı kelimeleri numaralarına göre eşleştirelim.

- | | |
|----------|---------|
| 1 Görev | Uyarı |
| 2 ikaz | Anı |
| 3 Konuk | Cümle |
| 4 Bina | Vazife |
| 5 Hatıra | Sözcük |
| 6 Hediye | Armağan |
| 7 Yanıt | Yapı |
| 8 Tümce | Misafir |
| 9 Kelime | Cevap |

MATEMATİK

* Aşağıdaki verilen sayıları en yakın onluğa yuvarlayalım.

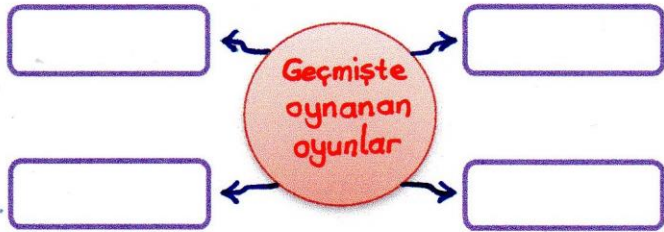
- | | | | |
|-----|--|-----|--|
| 38 | | 274 | |
| 987 | | 72 | |
| 155 | | 303 | |

* Aşağıdaki sayıları en yakın yüzlüğe yuvarlayalım.

- | | |
|-------|-------|
| 234 → | 929 → |
| 680 → | 263 → |
| 451 → | 515 → |
| 108 → | 739 → |

HAYAT BİLGİSİ

* Geçmişte oynanan oyunlardan 4 tanesini yazalım.



* Bir büyüümüzden geçmişte oynadıkları bir oyunu öğrenip aşağıya yazalım. → _____

FEN BİLİMLERİ

* Aşağıdaki duyu organlarını korumak için neler yapabiliriz?

Kulak

- _____
- _____

Göz

- _____
- _____

Burun

- _____
- _____

4. SINIFA GEÇENLER İÇİN HAZIRBULUNUŞLUK ÇALIŞMALARI

TÜRKÇE

*Aşağıdaki verilen deyimlerle anlamlarını eşleştirelim.

- | | |
|---|-------------------------|
| A | Ağzı kulaklarına varmak |
| B | Karnı zil çalmak |
| C | Gözden düşmek |
| D | Ödü patlamak |
| E | Burun kıvırmak |
| F | Can atmak |



Çok korkmak

Çok istemek

Değerini kaybetmek

Çok acıkmak

Çok fazla sevinmek

Bir şeyi beğenmemek

MATEMATİK

*Çarpma işlemlerini yapalım.

$$\begin{array}{r} 67 \\ \times 8 \\ \hline \end{array}$$

$$\begin{array}{r} 146 \\ \times 5 \\ \hline \end{array}$$

$$\begin{array}{r} 209 \\ \times 3 \\ \hline \end{array}$$

$$\begin{array}{r} 24 \\ \times 35 \\ \hline \end{array}$$

$$\begin{array}{r} 19 \\ \times 26 \\ \hline \end{array}$$

$$\begin{array}{r} 30 \\ \times 23 \\ \hline \end{array}$$

*Aşağıdaki 10 ve 100 ile çarpma işlemlerini kısa yoldan yapalım.

$$5 \times 100 =$$

$$100 \times 53 =$$

$$23 \times 10 =$$

$$10 \times 97 =$$

$$10 \times 60 =$$

$$11 \times 10 =$$

HAYAT BİLGİSİ

*Çocukların evdeki sorumluluklarından 5 tanesini yazalım.

1-

2-

3-

4-

5-

FEN BİLİMLERİ

*Aşağıdaki cümlelerdeki kuvvetlerin itme mi, çekme mi olduklarını yazalım.

Buse kaleminin kapağını açıyor.

Osman bisikletin pedalını çeviriyor.

Adna duvara çivi çakıyor.

Ahmet yere düşen silgisini alıyor.

Yusuf potaya basket atıyor.

4. SINIFA GEÇENLER İÇİN HAZIRBULUNUŞLUK ÇALIŞMALARI

TÜRKÇE

* Aşağıdaki kelimelerin doğru yazımlarını boyayalım.

şarz	şarj	her şey	herşey
şoför	şöför	tıraktör	traktör
herkes	herkez	stres	titres
kirpik	kiprik	film	filim
düyme	düğme	makine	makina
eczane	ezzane	buyday	buğday
yağmur	yamur	öğretmen	öretmen
bisiklet	pisiklet	penbe	pembe
made	madde	kral	kıral
sipor	spor	meyve	meyva
aferin	aferim	sağol	sağ ol
domatez	domates	rastgele	rasgele

MATEMATİK

* Aşağıdaki bölme işlemlerini yapalım.

$$\begin{array}{r} 18 \overline{) 3} \\ \end{array}$$

$$\begin{array}{r} 52 \overline{) 2} \\ \end{array}$$

$$\begin{array}{r} 93 \overline{) 3} \\ \end{array}$$

$$\begin{array}{r} 74 \overline{) 5} \\ \end{array}$$

$$\begin{array}{r} 20 \overline{) 6} \\ \end{array}$$

$$\begin{array}{r} 63 \overline{) 5} \\ \end{array}$$

$$\begin{array}{r} 37 \overline{) 5} \\ \end{array}$$

$$\begin{array}{r} 48 \overline{) 6} \\ \end{array}$$

$$\begin{array}{r} 40 \overline{) 2} \\ \end{array}$$

HAYAT BİLGİSİ

* Aşağıdaki cümlelerden doğru olanla "D", yanlış olanlara "Y" yazalım.

Dişimizi fırçalarken musluğu açık bırakabiliriz.

Kendi temizliğimizle ilgili bakımlara kişisel bakım denir.

Giysilerimizi temiz ve özenli kullanmalıyız.

Kaynaklar hiç bir zaman tükenmez.

Kardeşimizle aynı diş fırçasını kullanmalıyız.

FEN BİLİMLERİ

* Doğal ışık kaynağı olanlara "D", yapay ışık kaynaklarına "Y" yazalım.

mum

ateş

meşale

Güneş

ateş böceği

ampul

şimşek

deniz feneri

gaz lambası

yıldırım

araba farı

yıldızlar

4. SINIFA GEÇENLER İÇİN HAZIRBULUNUŞLUK ÇALIŞMALARI

1) Bir otobüste 32 erkek, yolcu vardır. Kadın yolcuların sayısı ise erkek yolcuların sayısının 3 katından 18 eksiktir. Buna göre otobüste kaç yolcu vardır?

5) Aralarında dörder yaş fark olan 3 kardeşten ortanca olanın yaşı 26'dır. Buna göre 3 kardeşin 4 yıl sonraki yaşları toplamı kaç olur?

2) " $168 < * < 181$ " * yerine gelebilecek en büyük sayı ile en küçük sayının farkının 23 katı kaçtır?

6) Bir otobüsteki koltuk sayısı 57'dir. Otobüste 13 erkek, erkeklerden 25 fazla kadın yolcu vardır. Buna göre otobüste kaç boş koltuk vardır?

3) Her gün kumbarama 4 TL para atıyorum. İki hafta sonra kumbarasındaki parayı 7 öğrenciye dağıtacağım. Buna göre her öğrenciye kaç TL vermeliyim?

7) Dörder ritmik sayma yaparken 44'ten önce ve sonra söylediğimiz sayıların toplamının 9 katı kaçtır?

4) 5 onluk, 3 birlik, 4 yüzlükten oluşan sayının 397 eksiğinin yarısı kaçtır?

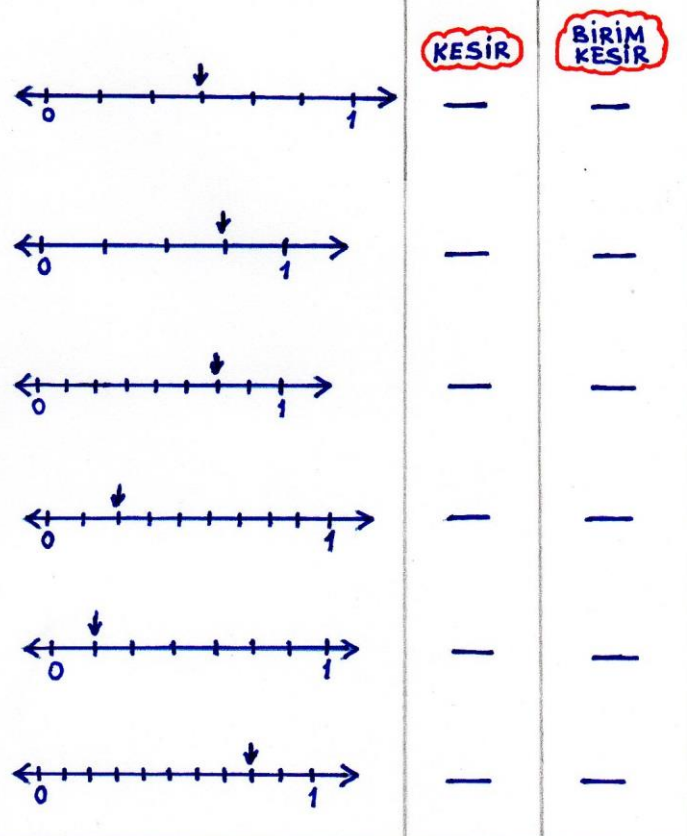
8) 480 kg unun 384 kg'ı satılmıştır. Geriye kalan unlar 4 kg'lık poşetlere konulacaktır. Buna göre kaç tane poşet gereklidir?

4. SINIFA GEÇENLER İÇİN HAZIRBULUNUŞLUK ÇALIŞMALARI

Aşağıdaki verilen kelimelerin ünlü harflerini ve hecelerini yazalım.

KELİMELER	ÜNLÜ HARFLER	HECELERE AYIRMA
saatçi		
bakımevi		
sertlik		
ısıtıcı		
kırkayak		
Bayburt		
kelebek		
yenilikçi		
beyaz		
Eminönü		
ikinci		

*Aşağıdaki sayı doğrusunda verilen kesirleri ve birim kesirlerini yazalım.



*Canlıların ortak özelliklerini yazalım.

→

→

→

→

→

→

→

→

*Aşağıdaki varlıklardan canlı olanları boyayalım.



*Aşağıdaki trafik levhalarının anlamlarını yazalım.



4. SINIFA GEÇENLER İÇİN HAZIRBULUNUŞLUK ÇALIŞMALARI

1) 22'den başlayarak ileriye doğru dörder sayarken 5. saymada söylediğimiz sayının 9 katı kaçtır?

5) Onluğa yuvarlandığında 70 olan en küçük sayının 13 katının 110 eksigi kaçtır?

2) Bir bölme işleminde bölen 7, bölüm 6 ve kalan 4'tür. Buna göre bölünen kaç olur?

6) 24 dilimden oluşan pastanın $\frac{2}{4}$ 'ünü Meral, $\frac{1}{6}$ 'ini Nuran yemiştir. Geriye kaç dilim pasta kalmıştır?

3) Bir deste balonun 8 katının çeyreği kaç balondur?

7) Ali'nin kumbarasından 5 tane 50 kr, 3 tane 25 kr, 6 tane 5 kr çıkmıştır. Ali'nin kumbarasından toplam ne kadar para çıkmıştır?

4) Dilan kumbarasına her gün eşit miktarda para atmaktadır. Bir haftada 63 TL para biriktirdiğine göre kumbarasına her gün kaç TL para atmıştır?

8) Sena'nın yaşı 23'tür. Kardeşi ise Sena'dan 6 yaş küçüktür. Annesinin yaşı ise Sena ve kardeşinin yaşları toplamına eşittir. Üçünün yaşları toplamı kaçtır?

4. SINIFA GEÇENLER İÇİN HAZIRBULUNUŞLUK ÇALIŞMALARI

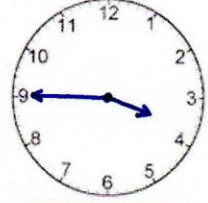
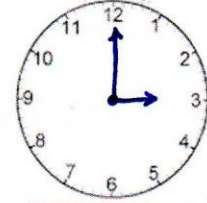
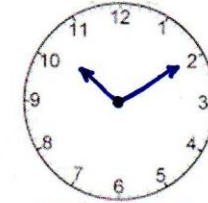
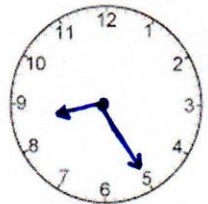

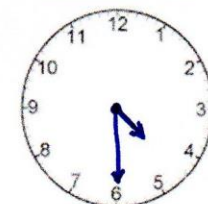
* Aşağıdaki somut kelimeleri sarıya, soyut kelimeleri kırmızıya boyayalım.

○ sevgi	○ özlem
○ ışık	○ sıcak
○ yol	○ salon
○ sıkıntı	○ umut
○ toprak	○ düşünce

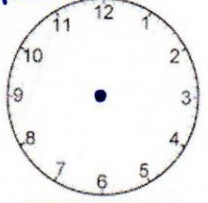
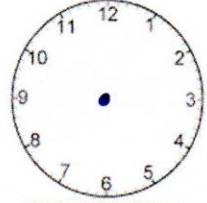
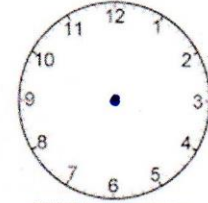
* Aşağıdaki tekil isimleri kırmızıya, çoğul isimleri maviye, topluluk isimlerini yeşile boyayalım.

○ evler	○ grup	○ küme
○ saç	○ sepet	○ yol
○ düzine	○ paralar	○ orman

* Aşağıdaki saatleri yazalım.

		
öö .	ös .	ös .
		
ös .	öö .	öö .

* Saatlere göre akrep ve yelkovanları çizelim

		
15.20	02.35	21.45

* Aşağıdaki cümlelerden doğru olanlara "D", yanlış olanlara "Y" yazalım.

- Ses kaynağından uzaklaştıkça sesin şiddeti azalır.
- Ay, doğal ışık kaynağıdır.
- Az veya çok ışık göz sağlığımız için zararlıdır.
- Görebilmemiz için mutlaka ışık gereklidir.
- İnsan kulağı her sesi işitir.
- Yüksek düzeydeki bizi rahatsız seslere gürültü denir.

* Çocukların evdeki sorumluluklarından 4 tanesini yazalım.

- _____
- _____
- _____
- _____

* Aşağıdaki kutulara mevsimine uygun sebze ve meyveleri yazalım.

İLKBAHAR	YAZ	SONBAHAR	KIŞ

4. SINIFA GEÇENLER İÇİN HAZIRBULUNUŞLUK ÇALIŞMALARI

1) İki basamaklı rakamları farklı en küçük sayının $\frac{3}{5}$ 'ünün 8 katı kaçtır?

5) Erkan kumbarasına 4 tane 50 kr, 3 tane 25 kr, 8 tane 10 kr ve 4 tane 5 kr attı. Erkan kumbarasına ne kadar para atmıştır?

2) Saat 09.40'da başlayan tiyatro 12.05'te bitmiştir. Tiyatro kaç saat kaç dakika sürmüştür?

6) Bir sınıfta 16 kız, 14 erkek öğrenci vardır. Öğrenciler sıralara üçerli otururlarsa kaç sıraya ihtiyaç olur?

3) Yüzlüğe yuvarlandığında 600 olan en büyük sayı ile en küçük sayının farkı kaçtır?

7) Mehtap oyun kartlarının çeyreğini kardeşine, yarısını arkadaşına hediye etti. Mehtap'ın 84 kartı olduğuna göre geriye kaç kartı kalmıştır?

4) Aralarında üçer yaş fark olan 3 kardeşten en küçüğünün yaşı 18'dir. Buna göre 3 kardeşin 5 yıl sonraki yaşları toplamı kaçtır?

8) Gülseren ve üç arkadaşı 44 tane sakızı eşit şekilde paylaşırlarsa her birine kaç tane sakız düşer?